

# 8er-Reihe

Name: \_\_\_\_\_

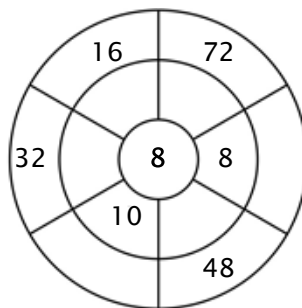
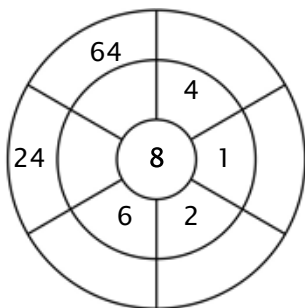
## Übung 1:

Male alle Felder aus, die Lösungen aus diesem Einmaleins enthalten.

55	18	48	16	32
22	72	80	32	1
55	24	64	40	21
23	72	7	33	45
80	16	65	24	8

## Übung 2:

Vervollständige den Kreis, indem du die Zahl in der Mitte mit dem mittleren Ring multiplizierst, um die äußere Zahl zu erhalten.



## Übung 3:

Trage das richtige Produkt ein.

a)  $2 \cdot 8 = \underline{\quad}$

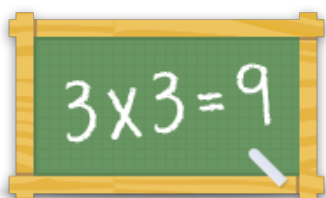
b)  $9 \cdot 8 = \underline{\quad}$

c)  $5 \cdot 8 = \underline{\quad}$

d)  $7 \cdot 8 = \underline{\quad}$

e)  $4 \cdot 8 = \underline{\quad}$

f)  $8 \cdot 8 = \underline{\quad}$



Für mehr Arbeitsblätter, Spiele und Übungen:  
[www.einmaleins.de](http://www.einmaleins.de)